

ROTEIRO DE ATIVIDADES COMPLEMENTARES DE ESTUDO – COVID 19

ESCOLA MUNICIPAL DR. VITÓRIO FRANKLIN


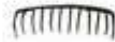
PROFESSORA: Rosana Novaes Puzzi TURMA: Sala de recurso A grupo 5 (5 ano)

COMPONENTE CURRICULARES: Habilidade e Matemática

PERÍODO DE REALIZAÇÃO: 22 a 26 de Junho

O QUE VOCÊ VAI ESTUDAR:	<ul style="list-style-type: none">• Atenção, concentração, figura fundo.• Matemática: ler, interpretar e resolver as situações problemas.
PARA QUE VAMOS ESTUDAR ESSES CONTEÚDOS?	<ul style="list-style-type: none">• Desenvolver a atenção e concentração.• Ler, interpretar, descobrir e resolver cada situação problema.
COMO VAMOS ESTUDAR OS CONTEÚDOS?	<ul style="list-style-type: none">➤ Organize seus estudos!➤ Realize as atividades e guarde-as.➤ Realize as atividades com atenção e capricho.

- 1) Observe a imagem e encontre os objetos indicados, pinte-os destacando-os.



Illustrated by Timothy Dwyer



2) Leia, interprete e resolva as situações problemas.

1- Qual o número que você obtém quando adiciona 2.079, 674, 3.579?

2- Paulo nasceu em 1976. Em qual ano ele fará 25 anos?

3- Mara tem a quantia de 875 reais. Se ela tiver mais 265 reais, poderá comprar uma filmadora. Qual é o preço da filmadora?

4- Em um jogo, Paulo marcou 792 pontos e Carlos marcou 1.019 pontos. Quantos pontos Carlos marcou a mais que Paulo?

5- Calcule a diferença entre 4.679 e 1.985.

6- Comprei uma caixa com 3.500 clipes. Já usei 1.147. Quantos clipes ainda restam?

7- Marina me emprestou 4.500 reais. Já devolvi 2.350 reais. Quantos reais ainda devo a ela?

ESPAÇO PARA OS CÁLCULOS.

3) LEIA, E RESOLVA O QUE SE PEDE.

Duas lojas lançaram em jornais o preço de suas promoções


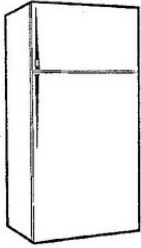
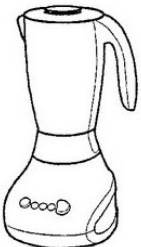
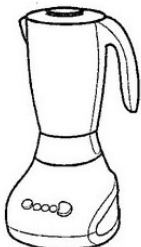
a) Quanto você gastaria se comprasse os dois produtos na loja **A**?

b) Quanto você gastaria se comprasse os dois produtos na loja **B**?

c) Qual a loja que está com os preços mais baixos?

d) Qual a diferença do preço anunciado pelas lojas no valor da geladeira?

e) Qual a diferença entre os preços do liquidificador?

LOJA A	LOJA B
 R\$ 799,00	 R\$ 829,00
 R\$ 89,00	 R\$ 93,00

ESPAÇO PARA OS CÁLCULOS.